

ТЕОРЕТИЧЕСКИЙ ТУР
 ТЕОРЕТИЧЕСКИЕ ЗАДАНИЯ

ПРЕДМЕТНАЯ СЕКЦИЯ «ОБЕСПЕЧЕНИЕ ЛИЧНОЙ БЕЗОПАСНОСТИ В
 ПОВСЕДНЕВНОЙ ЖИЗНИ»

ЗАДАНИЕ 1 (максимальный балл -30)

Дайте определение:

- Опасная ситуация* – человек что, но устроит, он в опасности
- Безопасность* – человек ничего не устроит устроит, он в безопасности

Заполните таблицу:

Какие виды опасностей нас могут подстерегать?

Причина опасности	Последствия
огонь	пожар 2
автомобиль	авария
природа	стихийные бедствия 0
электричество	замыкание
газ	можно задыхаться, взрыв 2
вода	затопление, можно утонуть
холод	можно замерзнуть насмерть. 2






Заполните схему:



Всероссийская олимпиада школьников 2023-2024 учебный год
 Школьный этап. ОБЖ, 5-6 классы, **БЛАНК ОТВЕТОВ**
 Время выполнения 45 мин. Максимальное кол-во баллов – 100
 Шифр

ЗАДАНИЕ 2. (максимальный балл - 20)

Заполните таблицу, вставив название грибов. Ядовитые грибы отметьте +
 Лесные грибы

	Название гриба	Рисунок гриба	
4	мухомор		+
	подберезовик белый гриб		
	белый гриб маслята		
4	подберезка		+
4	подберезовик опята		

ЗАДАНИЕ 3. (максимальный балл - 35)

3.1. Разгадайте ребусы.



ХОД

5

перец

'''



ШЕ

M = X



5

петух



Е



Е

100 К

5

перекресток



О



5

светло


3.2. Распределите дорожные знаки по группам:

Запрещающие знаки: 3, 7, 6

Предупреждающие знаки: 1, 4, 8

Предписывающие знаки: 2, 5

8



Задание 3.3. Объясните сигналы регулировщика:



а) можно ехать вперёд.

б) ехать нельзя

В) ехать запрещено.

Дайте определение:

Регулировщик ПДД

Человек регулирующий движение дорожной
транспортной, если на дороге нету светофора.

ТЕСТОВЫЕ ЗАДАНИЯ

№	1	2	3	4	5	6	7	8	9	10	11	12	13	14	15
ответ	в	д	д	в	д	д	ж	д	з	д	з	в	д	з	в
	+	+	+	+	+	+	+	+	+	+	+	+	+	+	+

Оценочные баллы: максимальный - 15 баллов; фактический - 14 баллов

Подписи членов жюри



ТЕОРЕТИЧЕСКИЙ ТУР

Шифр

ТЕОРЕТИЧЕСКИЕ ЗАДАНИЯ

ЗАДАНИЕ 1 (максимальный бал -30)

1.1. Дети пошли гулять в жару. Через некоторое время трем из них. стало плохо, у нее поднялась температура, появилась тошнота и головокружение. Остальные дети предположили, что у них тепловой удар. Какие действия они должны предпринять для оказания первой помощи? Выберите правильные ответы

1,5

7

1.2. Вы увидели, как ребенок упал с горки и ударился животом о камень. Удар пришёлся в левое подреберье. Пострадавший жалуется на боли в животе, слабость, головокружение. При осмотре отмечается бледность кожных покровов, частый слабый пульс.

Расставьте в правильном порядке оказание первой помощи.

4, 1, 2, 3

10

1.3. Дайте определение:

Паренхиматозное кровотечение –

Перечислите правила наложения жгута:

Взять эластичный жгут и крепко пережать в зоне пред-
плечья, так чтобы кровь в руке не пошла дальше

Перечислите правила остановки артериального кровотечения:

1 - выявить на какой конечности кровотечение, 2 - если это рука то согнуть ее в зоне локтя, 3 - взять вилку которой можно крепко пережать конечность от той крови не пошла на, 4 - продезинфицировать спиртом это в противном не будет заражение.

05

Оценочные баллы: максимальный - 30 баллов; фактический - _____ баллов

Подписи членов жюри _____

ЗАДАНИЕ 2. (максимальный балл - 25)

2.1. Дайте определение:

Авиационная катастрофа —

это катастрофа связанная с воздушным судном которое в воздухе при определенных обстоятельствах померло крушение.

35

2.2. Перечислите причины аварий воздушного транспорта:

плохая погода, перегрев двигателя, неответственность пилота, дезориентированность судна, поломка шасси, туман.

35

2.3. Перечислите действия пассажиров в случае аварии при взлете и посадке:

~~Эта вилка?~~
Опустить предметы, ударить стоек и ударить кресло
в оптимальном положении так же убедиться что
дети пристегнуты и ремни застегнуты

25

2.4. Перечислите правила поведения пассажиров при посадке на воду:

Соблюдать спокойствие, не паниковать, так же
если на борту есть дети успокоить и слушать команды
экипажа самолета.

65

Оценочные баллы: максимальный – 25 баллов; фактический – 7 баллов
Подписи членов жюри _____

ЗАДАНИЕ 3. (максимальный балл - 30)

3.1. Перечислите действия во время химической аварии, когда услышали предупреждающий сигнал оповещения «Внимание всем!» (звук сирен):

1. Закрывать нос, рот, уши, рот. Любая одежда и мужицкая маска. В мужицком случае одеть противогаз, закрывая в комнате и закрыть все окна, закрыть все отверстия (тогда надевать маску).

15

3.2. Перечислите действия при поступлении команды об эвакуации:

1 - Взять все личные документы и удостоверения
2 - одеться по форме, 3 - взять противогаз
4 - немедленно эвакуироваться в назначенное место

75

3.3. Перечислите классы химических веществ по опасности и токсичности воздействия на организм человека:

Биологические, Радиологические, Нейротоксичные,
Гидроактивные,

05

Оценочные баллы: максимальный – 30 баллов; фактический - 8 баллов
Подписи членов жюри _____

ТЕСТОВЫЕ ЗАДАНИЯ

№	1	2	3	4	5	6	7	8	9	10	11	12	13	14	15	
ответ	K	Г	A	K	B	B	A	B	B	K	B	A	A	B	B	B

Оценочные баллы: максимальный – 15 баллов; фактический - 6 баллов

Подписи членов жюри _____

Оценочные баллы: максимальный – 100 баллов; фактический - _____ баллов

Подпись председателя жюри _____


Всероссийская олимпиада школьников 2024-2025 учебный год
Школьный этап. ОБЖ, 7-8 классы, **ЗАДАНИЯ**
Время выполнения 45 мин+ 15 минут. Максимальное кол-во баллов – 100+100=200

ТЕОРЕТИЧЕСКИЙ ТУР

Шифр

ТЕОРЕТИЧЕСКИЕ ЗАДАНИЯ

ЗАДАНИЕ 1 (максимальный бал -30)

1.1. Дети пошли гулять в жару. Через некоторое время трем из них. стало нехорошо, у нее поднялась температура, появилась тошнота и головокружение. Остальные дети предположили, что у них тепловой удар. Какие действия они должны предпринять для оказания первой помощи? Выберите правильные ответы

1; 4; 5 10б +

1.2. Вы увидели, как ребенок упал с горки и ударился животом о камень. Удар пришёлся в левое подреберье. Пострадавший жалуется на боли в животе, слабость, головокружение. При осмотре отмечается бледность кожных покровов, частый слабый пульс.

Расставьте в правильном порядке оказание первой помощи.

~~1, 2, 3, 4, 5~~ 2, 1, 3, 4 0б —

1.3. Дайте определение:

Паренхиматозное кровотечение –

Это выходящее кровотечение 1б —

Перечислите правила наложения жгута:

Размотать жгут на одежде как можно туже замотать его над районой остановкой для предотвращения крови в поврежденную часть.

Перечислите правила остановки артериального кровотечения:

1. положить марлю на артерию (как можно плотнее)
2. Манжетой зафиксировать руку и часть тела где повреждена артерия
3. Возвезать скорую.

Оценочные баллы: максимальный – 30 баллов; фактический – 18 баллов

Подписи членов жюри _____

ЗАДАНИЕ 2. (максимальный балл - 25)

2.1. Дайте определение:

Авиационная катастрофа —

Когда у какого либо воздушного транспорта что-то случилось, или что-то врезалось в самолёт (авиа транспорт).

2.2. Перечислите причины аварий воздушного транспорта:

1. Не досмотрели работники какую часть самолёта
2. Пассажиры врезались в полёт.
3. Старые части самолёта
4. Пассажиры не держали ремёнок на авиа рейсах

2.3. Перечислите действия пассажиров в случае аварии при взлете и посадке:

При посадке: приоткрыть ремни, занять безопасную позу (стоять на месте, локти упираются в ствол кресла, ноги согнуть под углом 90°).

При взлете: 1) громко сказать

2.4. Перечислите правила поведения пассажиров при посадке на воду:

- 1) Обуть спас. шлем (шар с надписью)
- 2) снять каждую вещь, если есть
- 3) Надеть спас. шлем
- 4) Надеться над бортом
- 5) Сидят по борту (пропускают перед собой детей, и потом мамы).

Оценочные баллы: максимальный – 25 баллов; фактический - 11 баллов
Подписи членов жюри _____

ЗАДАНИЕ 3. (максимальный балл - 30)

3.1. Перечислите действия во время химической аварии, когда услышали предупреждающий сигнал оповещения «Внимание всем!» (звук сирен):

1. Если есть подлестница бункер, то идти туда
2. Выйти консервы
3. Если нет бункера то идти в коридор (на 1 этаж) закрыть окна.

3.2. Перечислите действия при поступлении команды об эвакуации:

Следовать табличками выхода из здания.

3.3. Перечислите классы химических веществ по опасности и токсичности воздействия на организм человека:

Угарный газ, Атомный газ, Ядерный газ

Оценочные баллы: максимальный – 30 баллов; фактический - 9 баллов
 Подписи членов жюри _____

ТЕСТОВЫЕ ЗАДАНИЯ

№	1	2	3	4	5	6	7	8	9	10	11	12	13	14	15
ответ	Г	В	В	Г	В	А	А	В	В	В	Б	В	Г	Г	Г

А Г А В Б Б В А А
 Оценочные баллы: максимальный – 15 баллов; фактический - 6 баллов

Подписи членов жюри _____

Оценочные баллы: максимальный – 100 баллов; фактический - _____ баллов

Подпись председателя жюри 

Всероссийская олимпиада школьников 2023-2024 учебный год
 Школьный этап. ОБЖ, 9 классы, ЗАДАНИЯ
 Время выполнения 45 мин+ 15 минут. Максимальное кол-во баллов – 100+100=200
 Разработчик: Чмиль Ирина Борисовна, КГПУ им В.П. Астафьева

ТЕОРЕТИЧЕСКИЙ ТУР

Шифр

--	--

ТЕОРЕТИЧЕСКИЕ ЗАДАНИЯ

ПРЕДМЕТНАЯ СЕКЦИЯ «ОБЕСПЕЧЕНИЕ ЛИЧНОЙ БЕЗОПАСНОСТИ В ПОВСЕДНЕВНОЙ ЖИЗНИ»

ЗАДАНИЕ 1 (максимальный бал -30)

1.1. Заполните таблицу

Характер нарушения	Признаки и симптомы	
Частичная непроходимость дыхательных путей, сознание сохранено.	1) кашель 1б 2) человек дышит и говорит	1б
Полная непроходимость дыхательных путей, дыхание сохранено	1) нет кашля 2) не говорит и не дышит 1б	1б
Удушье, потеря сознания.	1) судороги, пульс не определяется 1б	1б

1.2. Перечислите признаки и симптомы инсульта

- 1) Судороги
- 2) потеря сознания
- 3) тошнота
- 4) нарушение понимания речи
- 5) ощущение слабости
- 6) потеря равновесия
- 7) нарушение осязания конечностей

8/10

1.3. Перечислите признаки и симптомы проникающего ранения грудной клетки:

- 1) затруднения
- 2) кровоизлияние гр. клетки
- 3) сильная боль в области груди
- 4) кровохарканье
- 5) деформация, хрип для перелома

8/10

ЗАДАНИЕ 3. (максимальный балл - 30)

3.1. Дайте определение:

06 Социум –

человеческая общность как результат исторически сложившихся форм деятельности людей.

3.2. Перечислите опасные социально-политические явления:

36 война, репрессия, вооруженный конфликт, криминал, терроризм.

3.3. Перечислите опасные социально-экономические явления:

26 кризис, инфляция, природно-техногенные катастрофы.

3.4. Дайте определение:

46 Конфликту – столкновение противоположно направленных интересов

3.5. Перечислите виды политического конфликта:

06 Внутриполитические, внешнеполитические, межгосударственные и внутригосударственные.

Оценочные баллы: максимальный – 30 баллов; фактический - 36 баллов

Подписи членов жюри _____

ТЕСТОВЫЕ ЗАДАНИЯ

№	1	2	3	4	5	6	7	8	9	10	11	12	13	14	15
ответ	В	А	В	Б	А	Г	Г	В	А	Г	В	В	Г	Б	В






Оценочные баллы: максимальный – 15 баллов; фактический - 10 баллов

Подписи членов жюри _____

Оценочные баллы: максимальный – 100 баллов; фактический - 67 баллов

Подпись председателя жюри _____



3 Кротон 25		4 Диффенхазия Алоказия 25	
5 Азалия 25		6 Монстера 25	
7 Молокай 25			

2.3. Дайте определение ядовитым растениям.

25 Это группа растений, в которых содержатся вещества, которые потенциально опасны для человека и животных.

2.4. Какую первую помощь необходимо оказать пострадавшему при отравлении ядовитыми растениями?

- 35
- 1) Вызвать рвоту и дать выпить примерно 1 литр теплой подсоленной воды
 - 2) Промыть желудок
 - 3) Принять активированный уголь
 - 4) Отправить в больницу

Оценочные баллы: максимальный – 25 баллов; фактический - 30 баллов
Подписи членов жюри _____

ТЕОРЕТИЧЕСКИЙ ТУР

ШИФР

ПРЕДМЕТНАЯ СЕКЦИЯ «ОБЕСПЕЧЕНИЕ ЛИЧНОЙ БЕЗОПАСНОСТИ В ПОВСЕДНЕВНОЙ ЖИЗНИ»

ЗАДАНИЕ 1.

Вопрос	1.1	1.2	1.3	1.4	1.5
Правильный ответ	24 (4)	23 (4)	23 3 (2)	350 (4)	23 (4)

Оценочные баллы: максимальный – 30 баллов; фактический – 18 баллов





Подписи членов жюри _____





ЗАДАНИЕ 2.

2.1. Дайте определение:

Туристская маркировка – система условных знаков, наносимая на специальные места для людей, занимающихся туризмом. 2

2.2. Напишите, что означают представленные ниже знаки туристской маркировки.

Знак	Характеристика	
	Границы туризма	—
	Возле палатки	2
	Пути для туризма	—
	Разрешение на остановку транспорта	—

	На этой территории разрешается разводить огонь	21
	Запрещается разжигание костра	1
	Отходы! Губимо!	1
	Запрещено кормить животных	0

2.3. Дайте определение:

Туризм – путешествие совершаемое человеком/людьми
 в оздоровительных целях.

Оценочные баллы: максимальный – 22 баллов; фактический – 4 баллов

Подписи членов жюри _____

ЗАДАНИЕ 3.

3.1. Вставьте пропущенные фразы в текст (5 баллов).

Куликовская битва (1) укажите год 1380 между русским войском во главе с великим князем (2) Дмитрием и войском Золотой Орды под командованием темника (3) Мамаем на Куликовом поле – одна из крупнейших битв, положившая начало освобождению народов Восточной Европы от (4) Золотой Орды. После Куликовской битвы Великий князь получил почетное прозвище (5) Освободитель.

3.2. Заполните таблицу (15 баллов)

№	Название награды	Статус награды
1	Орден Александра Невского	Советская награда времён Великой Отечественной войны. Учреждён указом Президиума Верховного Совета СССР от 29 июля 1942 одновременно с орденами Суворова и Кутузова для награждения командного состава Красной Армии за выдающиеся заслуги в организации и руководстве боевыми операциями и за достигнутые в результате этих операций успехи в боях за Родину. Этим орденом награждались командиры дивизий, бригад, полков, батальонов, рот и взводов.
2		Советская награда времён Великой Отечественной войны. Учреждён Указом Президиума Верховного Совета СССР от 29 июля 1942 года. Этим орденом

		награждались командиры Красной Армии за выдающиеся успехи в деле управления войсками, отличную организацию боевых операций и проявленные при этом решительность и настойчивость в их проведении, в результате чего была достигнута победа в боях за Родину в Отечественной войне. Также награждались войсковые части.
3	Орден Нахимова	Советская флотская награда времён Великой Отечественной войны. Учреждён Указом Президиума ВС СССР от 3.03.1944 об учреждении военных орденов: этот орден и ордена Нахимова I и II степени, одновременно с орденом Нахимова специально для награждения офицеров Военно-Морского Флота. Этим орденом награждаются офицеры Военно-Морского Флота за выдающиеся успехи в разработке, проведении и обеспечении морских активных операций, в результате чего в боях за Родину была достигнута победа над численно превосходящим врагом.
4		Военный орден СССР, учреждён Указом Президиума ВС СССР от 8.11.1943 «Об учреждении ордена Славы I, II и III степени». Награждаются лица рядового и сержантского состава Красной Армии, а в авиации — и лица, имеющие звание младшего лейтенанта. Вручался только за личные заслуги, воинские части и соединения им не награждались. Орден Славы по своему статусу и цвету ленты почти полностью повторял одну из самых почитаемых в дореволюционной России наград — Георгиевский крест. Этим орденом награждаются лица рядового и сержантского состава Красной Армии, а в авиации и лица, имеющие звание младшего лейтенанта, проявившие в боях за Советскую Родину славные подвиги храбрости, мужества и бесстрашия. Этот орден состоит из трёх степеней: I, II и III степени. Высшей степенью ордена является I степень. Награждение производится последовательно: сначала третьей, затем второй и, наконец, первой степенью.
5	Медаль «За отвагу»	

3.3. Ответьте на вопросы (8 баллов)

1. За три недели до вторжения фашистов в нашу страну советский разведчик передал в Москву, что война начнется 22 июня. Кто был этим разведчиком?

Ответ: *Рихард Зорин*

2. Как назывался план вторжения в СССР? *2*

Ответ: *План "Барбаросса"* *2*

3. Что такое в военном деле «свинья», «клещи»?

Ответ: *люди, которые мешают/проговаривают армию, в которой они состоят*

4. Какую военную операцию немецко-фашистское командование называло операцией «Тайфун»?

Ответ: *Битва за Москву* *2*

Оценочные баллы: максимальный — 29 баллов; фактический — 12 баллов

Подписи членов жюри _____

ЗАДАНИЕ 3. (максимальный балл - 30)

3.1. Дайте определение:

06 Социум –

человеческая общность как результат исторически сложившихся форм деятельности людей.

3.2. Перечислите опасные социально-политические явления:

36 Война, репрессия, вооруженный конфликт, криминал, терроризм.

3.3. Перечислите опасные социально-экономические явления:

26 кризис, инфляция, природно-техногенные катастрофы.

3.4. Дайте определение:

46 Конфликту – столкновение противоположно направленных интересов

3.5. Перечислите виды политического конфликта:

06 Внутриполитические, внешнеполитические, межгосударственные и внутригосударственные.

Оценочные баллы: максимальный – 30 баллов; фактический - 26 баллов

Подписи членов жюри _____

ТЕСТОВЫЕ ЗАДАНИЯ

№	1	2	3	4	5	6	7	8	9	10	11	12	13	14	15
ответ	В	А	В	Б	А	Г	Г	Б	А	Г	Б	Б	Г	Б	В

Оценочные баллы: максимальный – 15 баллов; фактический - 10 баллов

Подписи членов жюри _____

Оценочные баллы: максимальный – 100 баллов; фактический - 67 баллов

Подпись председателя жюри _____



Всероссийская олимпиада школьников 2024-2025 учебный год
Школьный этап. ОБЖ, 10-11 классы,
Время выполнения 45 мин+ 15 минут. Максимальное кол-во баллов – 100+100=200

ТЕОРЕТИЧЕСКИЙ ТУР

ШИФР

ПРЕДМЕТНАЯ СЕКЦИЯ «ОБЕСПЕЧЕНИЕ ЛИЧНОЙ БЕЗОПАСНОСТИ В ПОВСЕДНЕВНОЙ ЖИЗНИ»

ЗАДАНИЕ 1.

Вопрос	1.1	1.2	1.3	1.4	1.5
	2	4	2	4	4
Правильный ответ	256	123	23	35	23

Оценочные баллы: максимальный – 30 баллов; фактический - 16 баллов





Подписи членов жюри _____





ЗАДАНИЕ 2.

2.1. Дайте определение:

Туристская маркировка – опознавательные знаки, обозначающие, что на данной территории запрещено делать, а что разрешено или что здесь находится. Об

2.2. Напишите, что означают представленные ниже знаки туристской маркировки.


Знак	Характеристика
	Запрещается 25.
	Памятник или памятное место 25
	Брод 25
	Автобусная остановка 25

	место для разведения костра	25
	Креветки запрещены	25
	Место только для купания	25
	Трава запрещена	25

165.

2.3. Дайте определение:

Туризм – вид спорта или вид отдыха, где организуются тренировки или для отдыха или

Оценочные баллы: максимальный – 22 баллов; фактический – 17 баллов  образован 18

Подписи членов жюри _____

ЗАДАНИЕ 3.

3.1. Вставьте пропущенные фразы в текст (5 баллов).

75 Куликовская битва (1) укажите год 1380 между русским войском во главе с великим
 75 князем (2) ~~Дмитрием Донским~~ и войском Золотой Орды под командованием темника
 15 (3) Мамыя на Куликовом поле – одна из крупнейших битв, положившая начало
 05 освобождению народов Восточной Европы от (4) Чингисханского ила. После
 18 Куликовской битвы Великий князь получил почетное прозвище (5) Донской.

3.2. Заполните таблицу (15 баллов)

№	Название награды	Статус награды
1	Орден Александра Невского	Советская награда времён Великой Отечественной войны. Учреждён указом Президиума Верховного Совета СССР от 29 июля 1942 одновременно с орденами Суворова и Кутузова для награждения командного состава Красной Армии за выдающиеся заслуги в организации и руководстве боевыми операциями и за достигнутые в результате этих операций успехи в боях за Родину. Этим орденом награждались командиры дивизий, бригад, полков, батальонов, рот и взводов.
2		Советская награда времён Великой Отечественной войны. Учреждён Указом Президиума Верховного Совета СССР от 29 июля 1942 года. Этим орденом

45.

35.

35	Орден Суворова	награждались командиры Красной Армии за выдающиеся успехи в деле управления войсками, отличную организацию боевых операций и проявленные при этом решительность и настойчивость в их проведении, в результате чего была достигнута победа в боях за Родину в Отечественной войне. Также награждались войсковые части.
05	3 Медаль Ушакова	Советская флотская награда времён Великой Отечественной войны. Учреждён Указом Президиума ВС СССР от 3.03.1944 об учреждении военных орденов: этот орден и ордена Нахимова I и II степени, одновременно с орденом Нахимова специально для награждения офицеров Военно-Морского Флота. Этим орденом награждаются офицеры Военно-Морского Флота за выдающиеся успехи в разработке, проведении и обеспечении морских активных операций, в результате чего в боях за Родину была достигнута победа над численно превосходящим врагом.
05	4 Орден "Победа"	Военный орден СССР, учреждён Указом Президиума ВС СССР от 8.11.1943 «Об учреждении ордена Славы I, II и III степени». Награждаются лица рядового и сержантского состава Красной Армии, а в авиации — и лица, имеющие звание младшего лейтенанта. Вручался только за личные заслуги, воинские части и соединения им не награждались. Орден Славы по своему статусу и цвету ленты почти полностью повторял одну из самых почитаемых в дореволюционной России наград — Георгиевский крест. Этим орденом награждаются лица рядового и сержантского состава Красной Армии, а в авиации и лица, имеющие звание младшего лейтенанта, проявившие в боях за Советскую Родину славные подвиги храбрости, мужества и бесстрашия. Этот орден состоит из трёх степеней: I, II и III степени. Высшей степенью ордена является I степень. Награждение производится последовательно: сначала третьей, затем второй и, наконец, первой степенью.
15	5 Медаль «За отвагу»	Воинская медаль СССР. Учреждена 14 октября 1938 г.

3.3. Ответьте на вопросы (8 баллов)

1. За три недели до вторжения фашистов в нашу страну советский разведчик передал в Москву, что война начнется 22 июня. Кто был этим разведчиком?

Ответ: Резерв Зорге 25

2. Как назывался план вторжения в СССР?

Ответ: "Барбаросса" 25

3. Что такое в военном деле «свинья», «клещи»?

Ответ: Безымянный парад войск 25

4. Какую военную операцию немецко-фашистское командование называло операцией «Тайфун»?

25. Ответ: Контрнаступление советских войск в московском направлении
Первый - Зимой 1941 года.

Оценочные баллы: максимальный — 29 баллов; фактический — 19 баллов

Подписи членов жюри _____

Всероссийская олимпиада школьников 2024-2025 учебный год
Школьный этап. ОБЖ, 10-11 классы,

ШИФР

ТЕСТОВЫЕ ЗАДАНИЯ

№	1	2	3	4	5	6	7	8	9	10	11	12	13	14	15
ответ	В	А	В	Б	В	В	А	А	А	Г	В	В	Б	Г	В

Оценочные баллы: максимальный – 20 баллов; фактический - 10 баллов

Подписи членов жюри _____

Оценочные баллы: максимальный – 100 баллов; фактический - _____ баллов

Подпись председателя жюри _____
